





























































	01	02	03	04	05	06	07	08	09	10	
A											A
B											B
C											C
D											D
E											E
F											F
	01	02	03	04	05	06	07	08	09	10	

Conta quanti  vedi e segna il risultato nello schema di seguito

Colonna					
01	02	03	04	05	
06	7	8	9	10	
fila					
A	B	C	D	E	F